

TRAJECT 3 - RIT A

Combi Luchtfoto punten Kaartconstructierit (SRA-E)

Beginpunt: Gelegenheid Baitali terrein te Klein Henar met 20 m voor u de Oost-Westverbinding.

HP 11/VTC 05 Ri globaal Z

IPT 0: 15:30 uur

Eindpunt : Parmessarweg met 60m achter u de Ir. M. N. Ataoellahweg.

HP 15 Ri globaal N

IPT 0: 16:45 uur

Rijtijd: 75 min (totaal)

Afstand: nvt

B.O. I rijtijd: 15 min, intekentijd: 10 min, afstand 4.17km

B.O. II rijtijd: 20min, intekentijd: 10 min, afstand 3.67km


Opdracht:

Rijd relaxed van het beginpunt A naar het eindpunt F van deze rit waarbij je de punten aangegeven op de luchtfoto's in nummervolgorde aandoet. De desbetreffende luchtfoto's zijn afgebeeld op deze en de volgende pagina's. Een punt wordt aangegeven d.m.v. een rode stip of rode punt op de luchtfoto. Eventuele goede ORC's staan in een straal van 40m van de punten. Kaarttekens, straatnamen e.d. onderbreken de onderliggende weg niet. In de punten B en D voer je verder ook Bijzondere Opdrachten B.O. I respectievelijk B.O. II uit, zoals op de volgende pagina's is aangegeven.

Tip! Teken B.O. 1 liever in voor u de Henarbrug op gaat.







B.O. I**De BAITALI puntenrit (SRA-E)**

Beginpunt: Punt B	Ing. M.N. Ataoellahweg, met 50m R voor je de Arboriorijstweg en achter je de Henarbrug, punt B op kaart 1 op pagina 5 en op de luchtfoto op pagina's 1 en 3. Ri globaal W.
IPT O:	15:35 uur
Eindpunt : HP 12	Ing. M.N. Ataoellahweg en met links achter u de Abdoel Islam Alibuxweg, punt C op kaart 1 op pagina 5 en op de luchtfoto's op pagina's 1 en 3. Ri globaal W.
IPT O:	15:55 uur
Intekentijd:	5 min
Rijtijd:	15 min
Afstand	4.17 km

Opdracht:

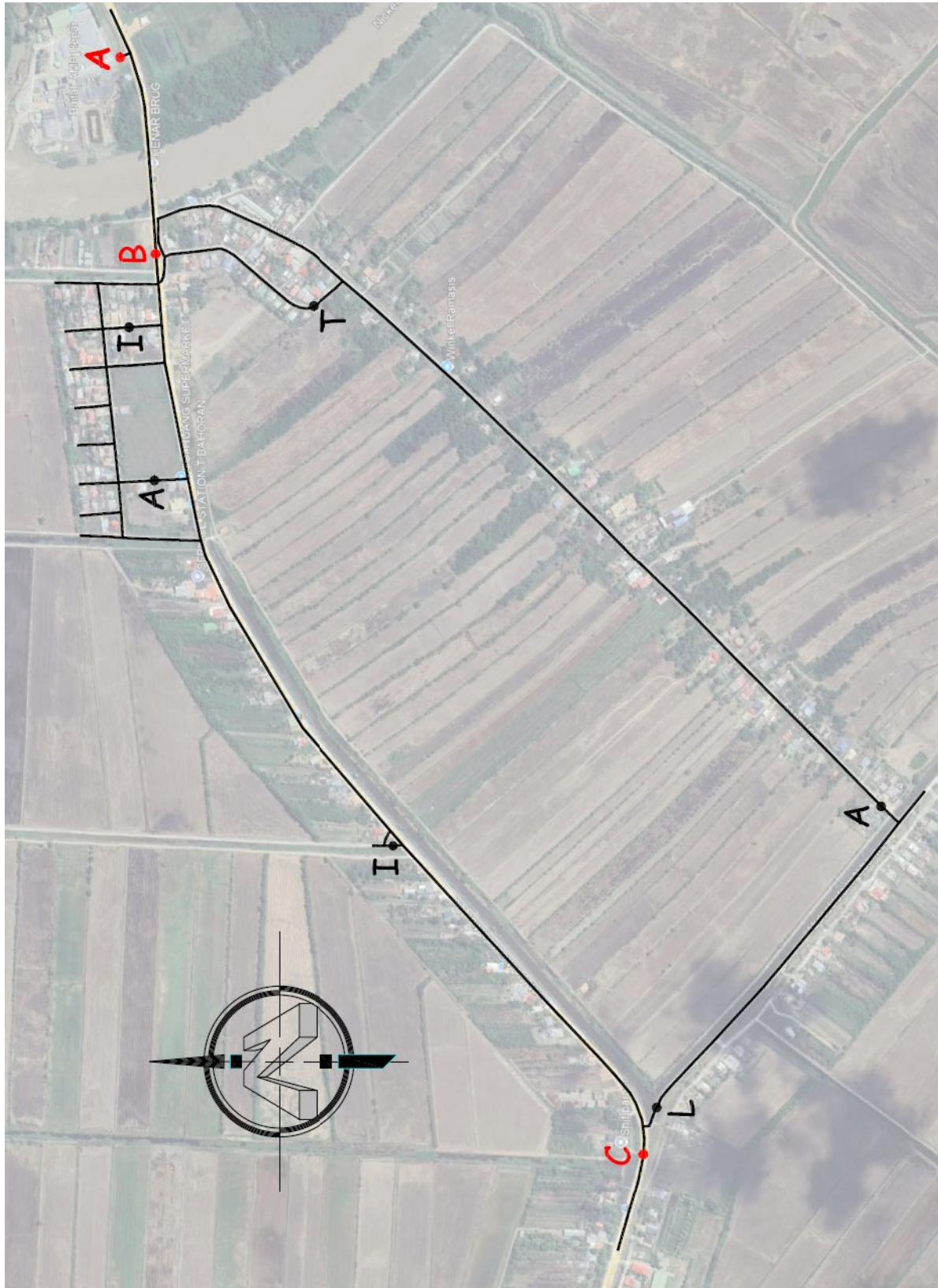
Construeer en berijd via de wegen voorkomende op kaart 1 op pagina 5 de totaal kortste route van beginpunt B naar eindpunt C.

Doe hierbij de letters die voorkomen in het woord BAITALI even vaak aan.

Een letter doet u aan door een punt met een bijbehorende letter in uw constructie op te nemen.

Kaarttekens, straatnamen e.d. onderbreken de onderliggende weg niet.

KAART 1



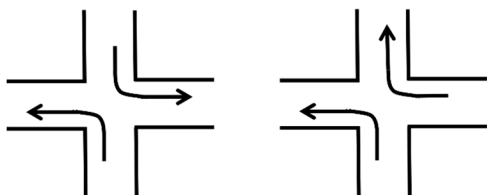
B.O. II**De onversprongen Viersprongenrit (SRA-E)**

Beginpunt: HP 13	Rangoonrijstweg met 60m achter je de Ing. M.N. Ataoellahweg, punt D op kaart 2 op pagina 7 en op de luchtfoto's op pagina's 1 en 3. Ri globaal N
IPT O:	16:05 uur
Eindpunt : HP ..	Pandanrijstweg t.h.v. SWM Henar en met 40m voor je de Ing. M.N. Ataoellahweg, punt E op kaart 2 op pagina 7 en op de luchtfoto's op pagina's 1 en 3. Ri globaal Z
IPT O:	16:35 uur
Intekentijd:	10 min
Rijtijd:	20 min
Afstand	3.67 km

Opdracht:

Construeer met behulp van de wegen voorkomende op kaart 2 op pagina 7 de totaal kortste route van punt D naar punt E, waarbij er zoveel mogelijk viersprongen moeten worden aangedaan met in achtneming van de volgende bepalingen:

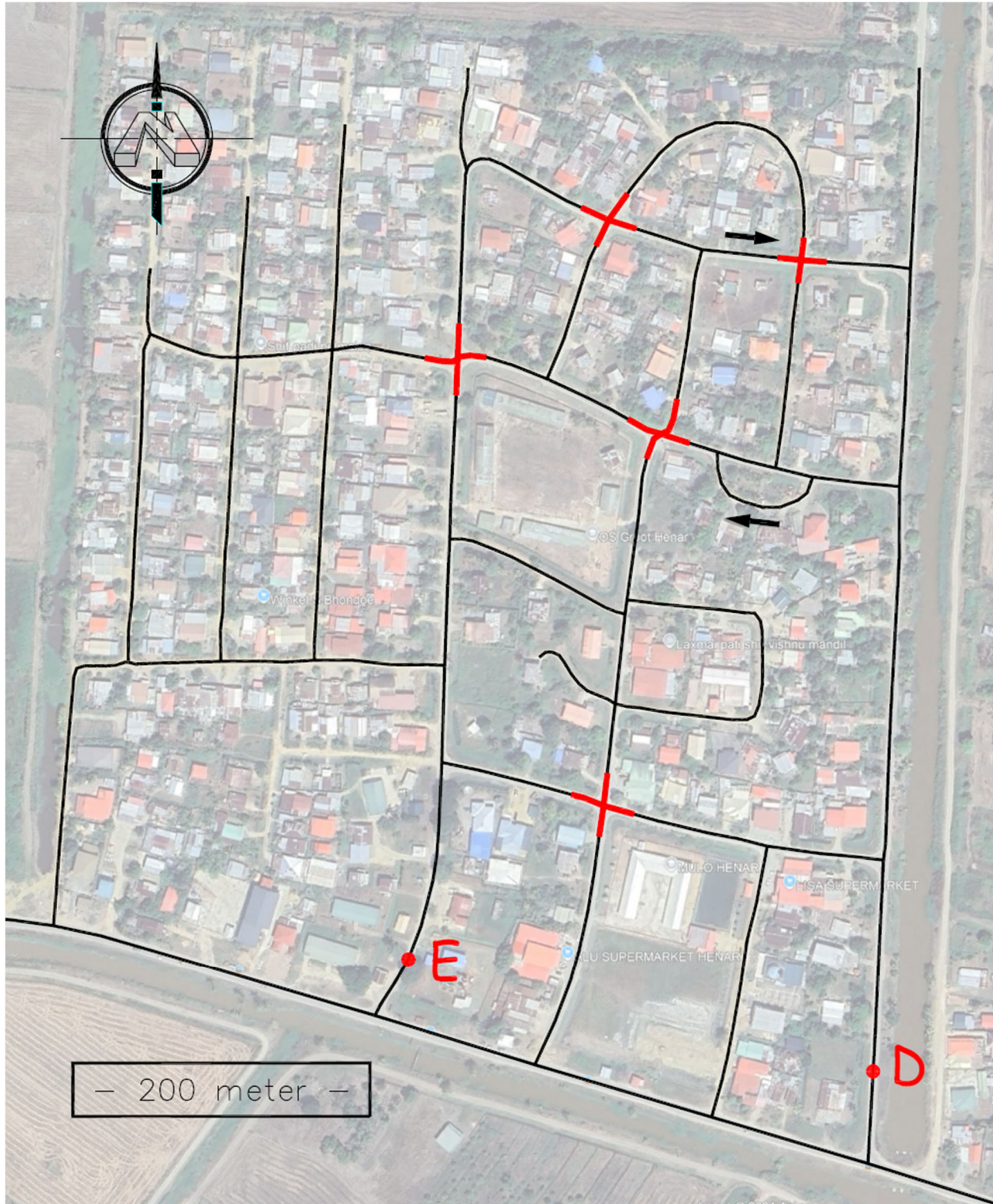
- Een viersprong is aangedaan, wanneer alle samenstellende wegen zijn opgenomen in de constructie. Daarbij mag er niet rechtdoor worden ingetekend (de tegenovergelegen weg ingaan), er moet dus op elke viersprong een richtingsverandering plaatsvinden (zie onderstaande voorbeelden).



- Wegen moeten zo min mogelijk meerdere malen worden gebruikt, samenkomsten van wegen mogen meerdere malen worden gebruikt.
- Pijlen langs de weg geven een verplichte rijrichting aan voor dat weggedeelte.

Kaarttekens, letters e.d. onderbreken de onderliggende weg niet.
Een kennelijke viersprong op de kaart wordt geacht ook in het veld een viersprong te zijn.

KAART 2



TRAJECT 3 - RIT B

FOTO-ORIENTATIE RIT (SRA-F)

Beginpunt: Parmessarweg met 60m achter u de Ir. M. N. Ataoellahweg.
HP 15 Ri globaal N
IPT 0: 16:45 uur

Eindpunt : G.G. Maynardstraat met 30m voor u de Emmastraat.
HP 17/VTC 06 Ri globaal W
IPT 0: 17:45 uur

Rijtijd: 60 min
Afstand: 17.29 km

Opdracht:

U rijdt van beginpunt naar het eindpunt van deze rit met behulp van de foto's op de pagina's 9 t/m 12 met in achtneming van het volgende:

- De pijl op de foto geeft de te volgen rijrichting aan.
- De foto rechtsonder op de pagina sluit de respectievelijke pagina af.
- Indien er een afstand op de foto is aangebracht, dient u eerst deze afstand af te leggen en wel gemeten vanaf de voorgaande foto opdracht, alvorens de richtingsverandering op de betreffende foto opdracht uitgevoerd mag worden.
- Opmerking van onze Nederlandse uitzetter/fotograaf: u dient uw snelheid in de zandwegen te matigen. Deze rit gaat over goed begaanbare wegen, ook daar adviseren wij u uw snelheid te matigen.
- Niet alle foto's hoeven van toepassing te zijn.

HP 16 Na het uitvoeren van de foto met de tekst "HP" bevindt u zich in de Fredericiweg met 20m achter u de Kasyustraat en rechts van u "3698".
Ri globaal N
IPT 0: 17:39 uur









Hierna volgt een VTC van 30 minuten.