

Trajekt 1 Rit A Bol-Pijl (SRA-D)

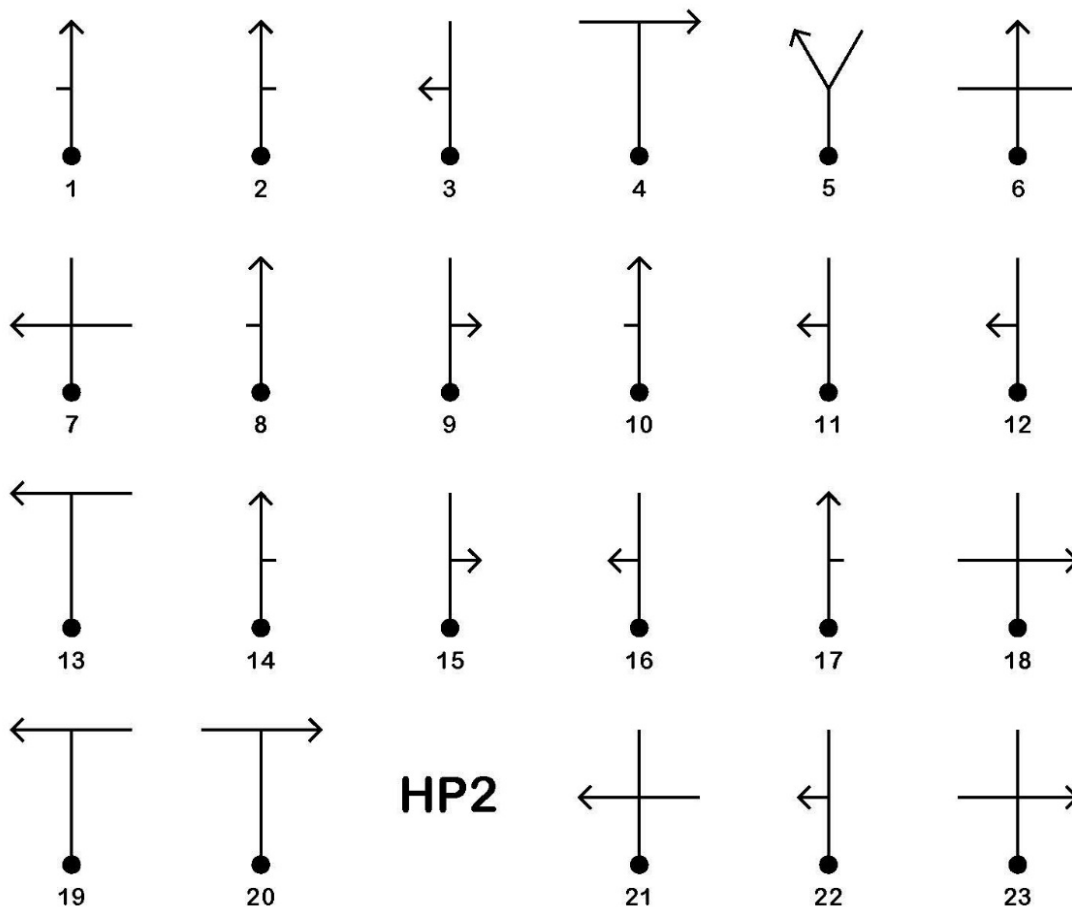
Beginpunt:	Onafhankelijkheidsplein met rechts achter u het Vlaggenplein, Ri globaal W
HP 1/VTC 1	
IPT 0:	20:00 uur
Eindpunt:	Willem Campagnestraat met 50 m voor u de Frederik Derbystraat, Ri globaal O.
HP 3	
IPT 0 :	20:45uur
Rijtijd:	45 min
Afstand:	9.18 km

Opdracht:

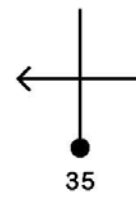
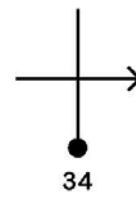
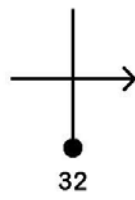
Rijd van het beginpunt naar het eindpunt van deze rit waarbij u de bol-pijl opdrachten op pagina 1 en 2 uitvoert. Tot HP 2 zijn de opdrachten gestileerd en dienen volgens systeem c uitgevoerd te worden. Daarna moeten de bol-pijl opdrachten worden uitgevoerd volgens systeem d.

HP 2: Na het uitvoeren van opdracht 20 bevindt u zich in de Verlengde Gemeenlandsweg met 30 m voor u de Zonnebloemstraat, Ri globaal W.

IPT0: 20:23 uur



45th SAVANNE RALLY '23



Trajekt 1 Rit B Stripkaart (SRA-D)

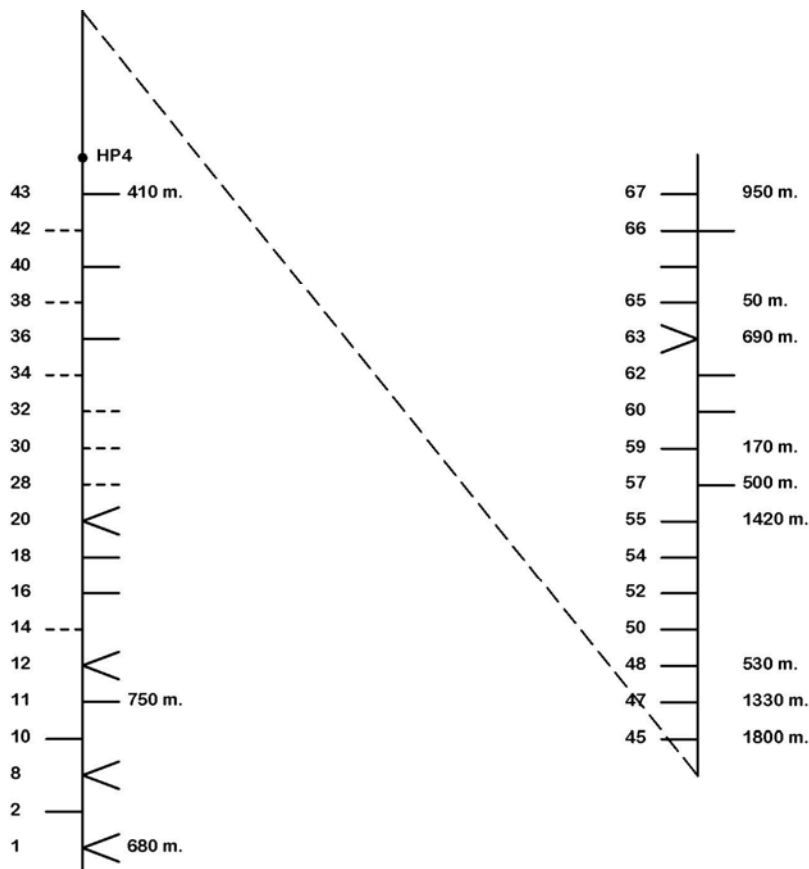
Beginpunt:	Willem Campagnestraat met 50 m voor u de Frederik Derbystraat, Ri globaal O.
HP 3	
IPT 0:	20:45 uur
Eindpunt:	Churchillweg met 50 m voor u de Putterweg t.h.v. "DB 134", Ri globaal O.
HP 5	
IPT 0 :	21:45uur
Rijtijd:	60 min
Afstand:	14.96 km

Opdracht:

Rijd van het beginpunt naar het eindpunt van deze rit aan de hand van de stripkaart opdrachten op pagina 3 met inachtneming van het volgende.

- De oneven genummerde stripkaart opdrachten voert u uit volgens systeem g
- De even genummerde opdrachten tot HP 4 voert u uit volgens systeem f
- De even genummerde opdrachten na HP 4 voert u uit volgens systeem d
- De overige opdrachten voert u uit volgens systeem c

HP 4: Na het uitvoeren van opdracht 43 bevindt u zich in de Slangenhoutstraat met 140 m achter u de Gronfolostraat, Ri globaal ZO. IPT0: 21:04 uur



Trajekt 1 Rit C Langste route (SRA-E)

Beginpunt:	Churchillweg met 50 m voor u de Putterweg t.h.v. "DB 134", punt A op kaart 1,
HP 5	Ri globaal O.
IPT 0:	21:45 uur
Eindpunt:	Churchillweg met 60 m achter u de Watermuntweg t.h.v. "DB 141", punt B op kaart
HP 6	1, Ri globaal O.
IPT 0 :	22:20 uur
Intekentijd:	3 min
Rijtijd:	32 min
Afstand:	9.51 km

Opdracht 1:

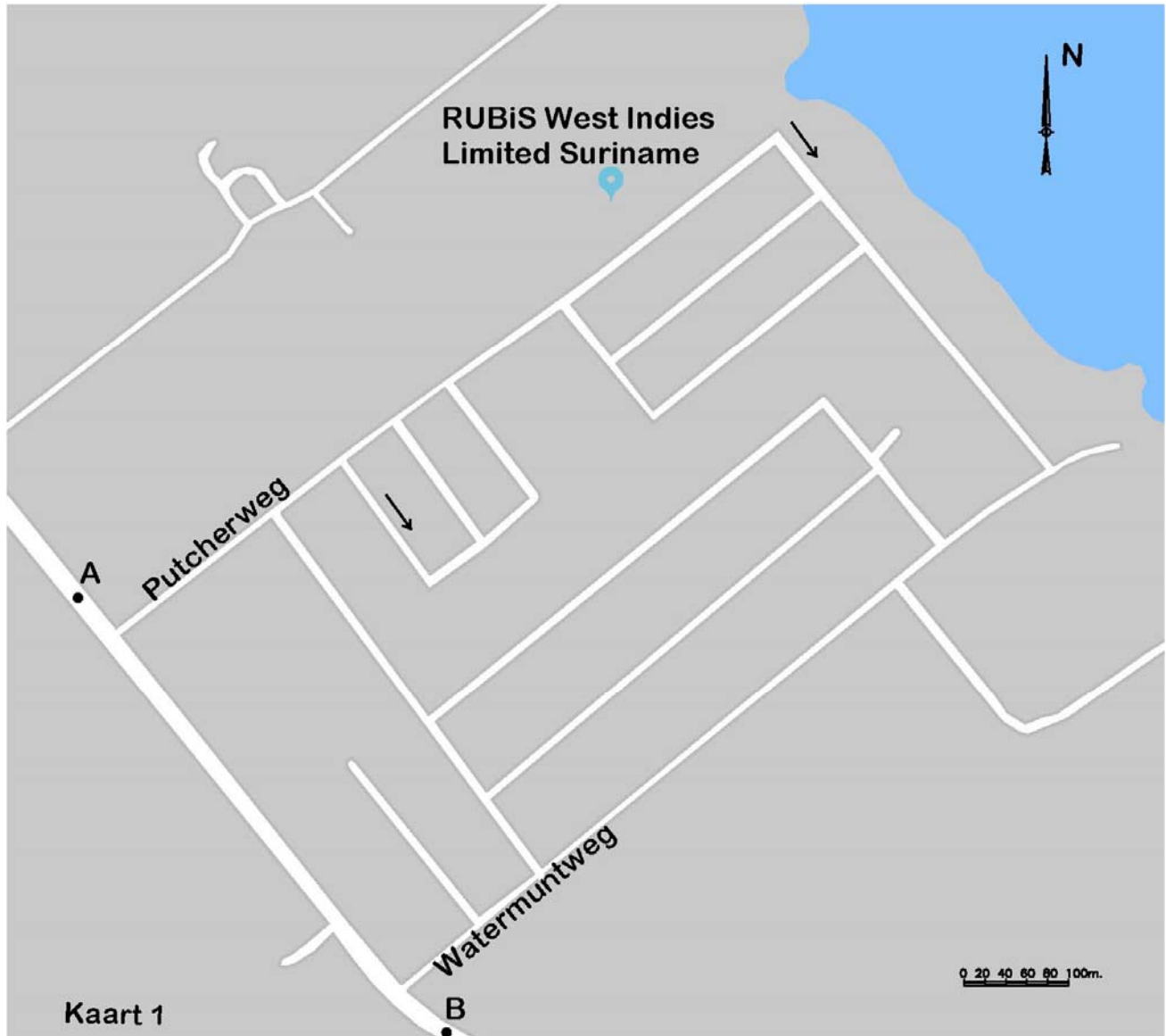
Construeer met behulp van kaart 1 op pagina 5 van punt A naar punt B de totaal langste route, met in achtname van het volgende:

- Wegen mogen niet meerdere malen gebruikt worden.
- Samenkomsten van wegen mogen meerdere malen worden gebruikt.
- Een pijl langs een weggedeelte geeft een verplichte rijrichting voor dat weggedeelte aan.
- Kaarttekens, letters e.d. onderbreken de onderliggende weg niet.

Opdracht 2:

Rijd de door u geconstrueerde route.

N.B. Bij het omrijden mogen wegen meerdere malen gebruikt worden.



Trajekt 1 Rit D Meerkeuze rit (SRA-C, SRA-D, SRA-E, SRA-G, SRA-I)

Beginpunt:	Churchillweg met 60 m achter u de Watermuntweg t.h.v. "DB 141", punt B op kaart
HP 6	1, Ri globaal O.
IPT 0:	22:20 uur
Eindpunt:	Martin Luther Kingweg met 110 m achter u de Steenslagweg en links van u "S342",
HP 14	punt C op de blinde lijn op pagina 10, Ri globaal Z.
IPT 0 :	23:30 uur
Rijtijd:	70 min
Afstand:	24.90 km

Opdracht:

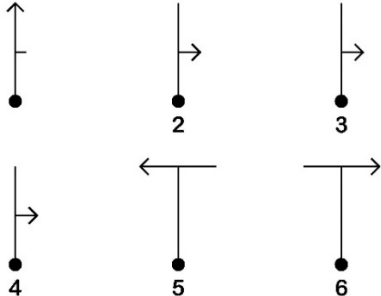
Rijd van het beginpunt naar het eindpunt van deze rit aan de hand van de genummerde deelritten I tot en met VIII op de volgende pagina's met behulp van de volgende opdrachten, te weten: routebeschrijving (SRA-C), Bol-pijl (SRA-D), stripkaart (SRA-D), klokkenrit (SRA-G) en straaldiagram (SRA-I).

Deze rit dient verreden te worden in nummervolgorde met in achtneming van het volgende:

- U begint met deelrit I, waarna u de overige deelritten in opeenvolgende nummervolgorde uitvoert.
- Per deelrit kiest u voor de opdrachten in het paneel RONNY of voor die in het paneel STEPHEN; zodra u de eerste opdracht van één der panelen reglementair kunt uitvoeren, kiest u voor het desbetreffende paneel.
- Nadat alle opdrachten uit het desbetreffende paneel zijn uitgevoerd, wordt deze deelrit als afgesloten beschouwd en gaat u verder met de volgende genummerde deelrit.
- De bol-pijl opdrachten zijn gestileerd en u rijdt die volgens systeem d.
- De stripkaart-opdrachten rijdt u volgens systeem c.
- Bij de klokkenrit zijn de rijrichtingen aangegeven op basis van de wijzers van de analoge klok met dien verstande dat u zich bevindt in het centrum van de klok in de richting van de minutenwijzer, terwijl de te volgen rijrichting wordt aangegeven door de urenwijzer.
- De opdrachten van de straaldiagram voert u uit conform SRA-I artikel 1.
- Nadat u de laatste deelrit heeft uitgevoerd, rijdt u door naar het eindpunt van deze rit.

N.B. Het kan voorkomen dat er tussen 2 HP's geen ORC's zijn.

Deelrit I

RONNY	STEPHEN
	<ol style="list-style-type: none"> 1. na brug 1e weg R 2. 1^e weg R 3. einde weg L 4. einde weg L 5. einde weg R

HP 7: Na het uitvoeren van deelrit I bevindt u zich in de Churchillweg t.h.v. "PARA RESIDENCE",
Ri globaal NO.

IPT 0: 22:25 uur

Deelrit II

RONNY	STEPHEN
<ol style="list-style-type: none"> 1. 7260 m A1 	

HP 8: Na het uitvoeren van deelrit II bevindt u zich in de Churchillweg met 10 m rechtsachter van u
Manjadam, Ri globaal O.

IPT 0: 22:35 uur

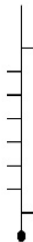
Deelrit III

RONNY	STEPHEN
	<ol style="list-style-type: none"> 1. na brug 1^e gelegenheid R 2. einde weg R 3. na "CONES", na brug 1^e weg R 4. einde weg R

HP 9: Na het uitvoeren van deelrit III bevindt u zich in Churchillweg met 40 m rechts voor u
Domburg 05^e straat, Ri globaal Z.

IPT 0: 22:45 uur

Deelrit IV

RONNIJ	STEPHEN
<ol style="list-style-type: none"> 1. 40 m A3 2. 130 m B7 3. 230 m A7 4. 150 m B2 	

HP 10: Na het uitvoeren van deelrit IV bevindt u zich in de Churchillweg met rechts voor u
Domburg 07^e straat t.h.v. "9649", Ri globaal Z.

IPT 0: 22:50 uur

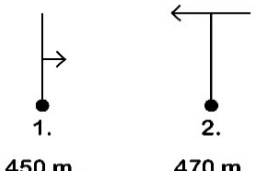
Deelrit V

RONNY	STEPHEN
<ol style="list-style-type: none"> 1. 1120 m B6 2. 30 m B1 3. 1280 m B2 4. 1720 m A7 	<ol style="list-style-type: none"> 1. 1050 m 140° 2. 40 m 120° 3. 1280 m 160° 4. 1720 m 90°

HP 11: Na het uitvoeren van deelrit V bevindt u zich in de Streepvarenweg met 40 m achter u de Churchillweg, Ri globaal O.

IPT 0: 23:00 uur

Deelrit VI

RONNY	STEPHEN
 <p>1. 450 m.</p> <p>2. 470 m.</p>	<ol style="list-style-type: none"> 1. einde weg L 2. einde weg L 3. bij "ORNA TAXI enz." R 4. 1^e weg L

HP 12: Na het uitvoeren van deelrit VI bevindt u zich in de Vireshweg met 40 m achter u de Ramradjweg, Ri globaal Z.

IPT 0: 23:10 uur

Deelrit VII

RONNY	STEPHEN
<ol style="list-style-type: none"> 1. 20 m 00.15 uur 2. 200 m 03.00 uur 3. 290 m 11.45 uur 4. 200 m 09.00 uur 	

HP 13: Na het uitvoeren van deelrit VII bevindt u zich in Churchillweg met 20 m achter u de Ramradjweg, Ri globaal Z.

IPT 0: 23:20 uur

Deelrit VIII

RONNY	STEPHEN
<ol style="list-style-type: none"> 1. 3640 m B2 2. 560 m B7 	

Trajekt 1 Rit E Gestileerde Blinde lijn met punten (SRA-E)

Beginpunt:	Martin Luther Kingweg met 110 m achter u de Steenslagweg en links van u "S342",
HP 14	punt C op de blinde lijn op pagina 10, Ri globaal Z.
IPT 0:	23:30 uur
Eindpunt:	Ingang naar Snowhill, Ri globaal O.
HP 15/VTC 2	
IPT 0 :	00:15 uur
Rijtijd:	45 min
Afstand:	n.v.t.

Opdracht:

Rijd van het beginpunt C via de punten D en F naar het eindpunt van deze rit via de gestileerde blinde lijnen op pagina 10 en 11, waarbij u de genummerde punten (aangegeven door een zwarte bol) dient aan te doen, met inachtneming van het volgende.

1. De blinde lijn dient zo volledig mogelijk bereden te worden.
2. U dient de punten aan te doen via een vrije route.
3. Om de opdracht uit te voeren mag u de blinde lijn verlaten via in het veld voorkomende wegen.
4. Daar waar u de blinde lijn hebt verlaten om een punt aan te doen, dient u deze weer op te pakken om uw route te vervolgen.
5. De genummerde punten behoren bij de dichtstbijzijnde blinde lijn.
6. Eventueel goede ORC's staan binnen een straal van 50 m van de genummerde punten.

N.B. De punten D en F zijn in het veld aangegeven

45th SAVANNE RALLY '23

